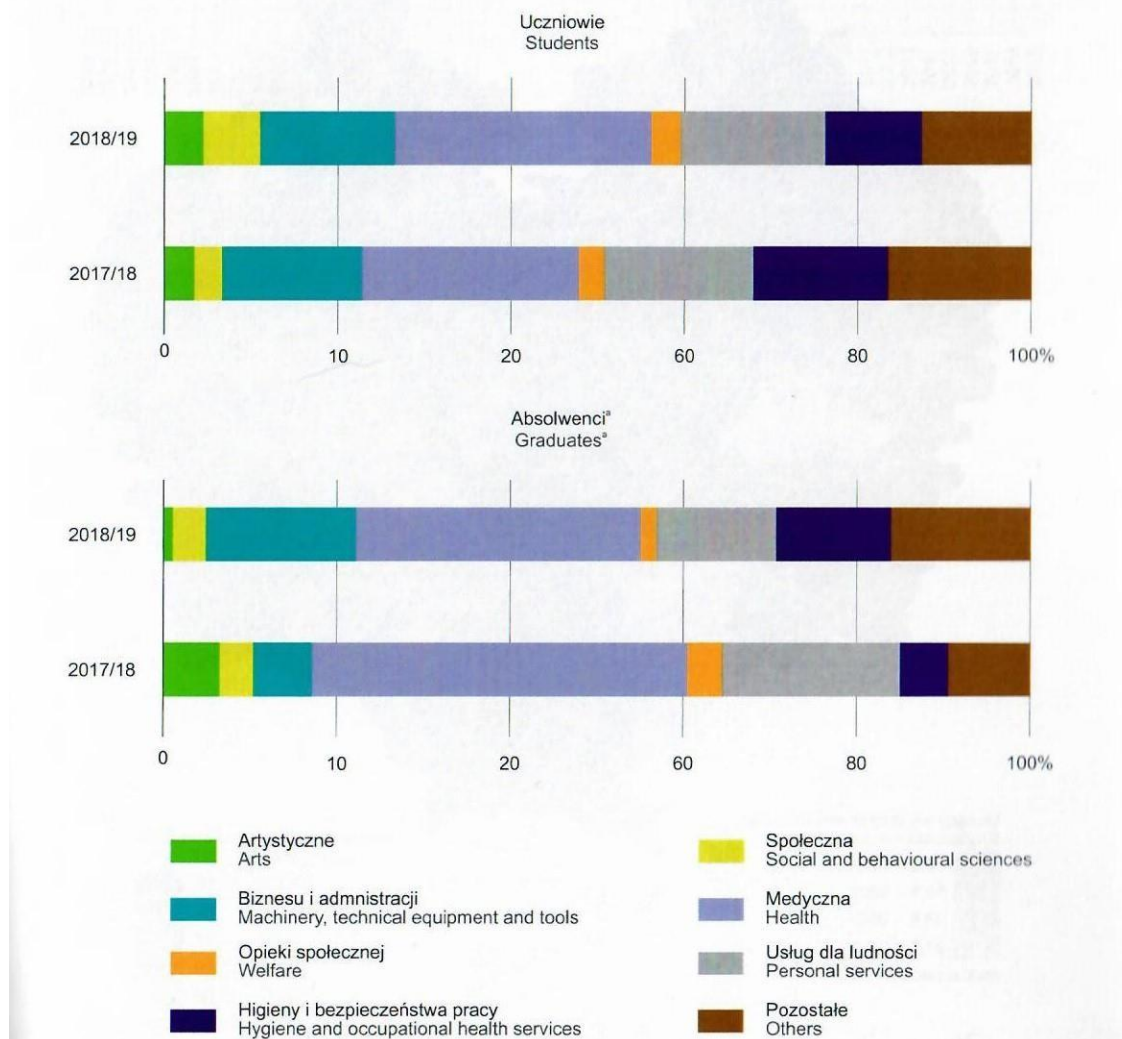




**Materiały źródłowe do zadań 1, 2 i 3.**

WYKRES 1 (42). UCZNIOWIE I ABSOLWENCI SZKÓŁ POLICEALNYCH (bez szkół specjalnych)  
WEDŁUG PODGRUP KIERUNKÓW KSZTAŁCENIA  
CHART 1 (42). STUDENTS AND GRADUATES OF POST-SECONDARY SCHOOLS  
(excluding special schools) BY NARROW FIELDS OF EDUCATION



źr. Rocznik Statystyczny Województwa Podkarpackiego 2020, Rzeszów 2020, s. 79.

**Zadanie 1. [0-1]**

Wskaż, które kierunki kształcenia są najbardziej popularne wśród osób podejmujących naukę w szkołach policealnych.

.....

**Zadanie 2. [0-1]**

Wymień 3 przyczyny popularności tych kierunków.

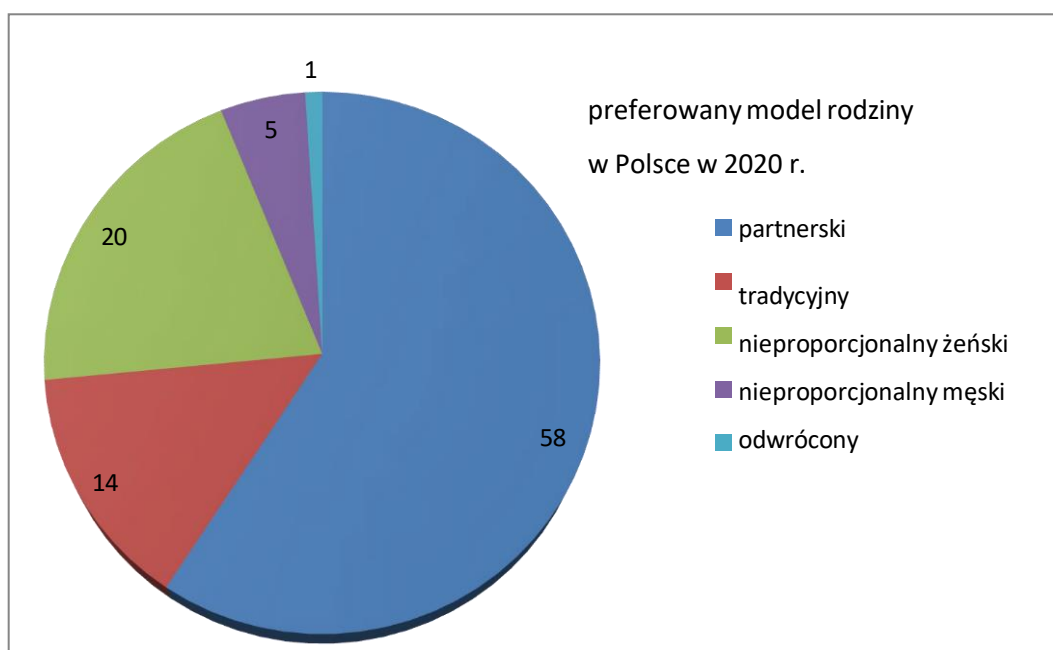
.....

### Zadanie 3. [0-1]

Nazwij typ społeczeństwa, w którym zaczynają dominować absolwenci kierunków wskazanych przez Ciebie w odpowiedzi do zadania 1.

.....

### Materiały źródłowe do zadań 4,5 i 6.



/źr. opracowanie własne na podstawie: Modele życia małżeńskiego Polaków, Komunikat z badań

CBOS Nr 157/2020, s. 3/

*„Według zasad tej rodziny wszyscy są na uprzywilejowanej pozycji. Nie ma tam zasady, że ja przynoszę większe pieniądze do domu, to mi się wszystko należy, a ty nie masz nic do gadania. Oczywiście wiadomo, że czasami zdarza się, że tylko jednak osoba pracuje, jednakże z tego powodu nie dyskryminuje się nikogo. Decyzje są podejmowane przez wszystkich członków rodziny. Każdy ma coś do powiedzenia. Każdy także ma swoje prawa, ale także i obowiązki do spełnienia. Prace domowe są dzielone poprzez wszystkich członków rodziny, a nie są wykonywane tylko i wyłącznie przez kobietę.”*

/ źr. [www.tvformats.eu/](http://www.tvformats.eu/)

### Zadanie 4. [0-1]

Wskaż któremu modelowi rodziny na wykresie odpowiada patriarchalny model rodziny podając nazwę i odsetek takich rodzin preferowanych w Polsce.

.....

### Zadanie 5. [0-2]

Wyjaśnij czym różni się model tradycyjny rodziny od rodziny partnerskiej.

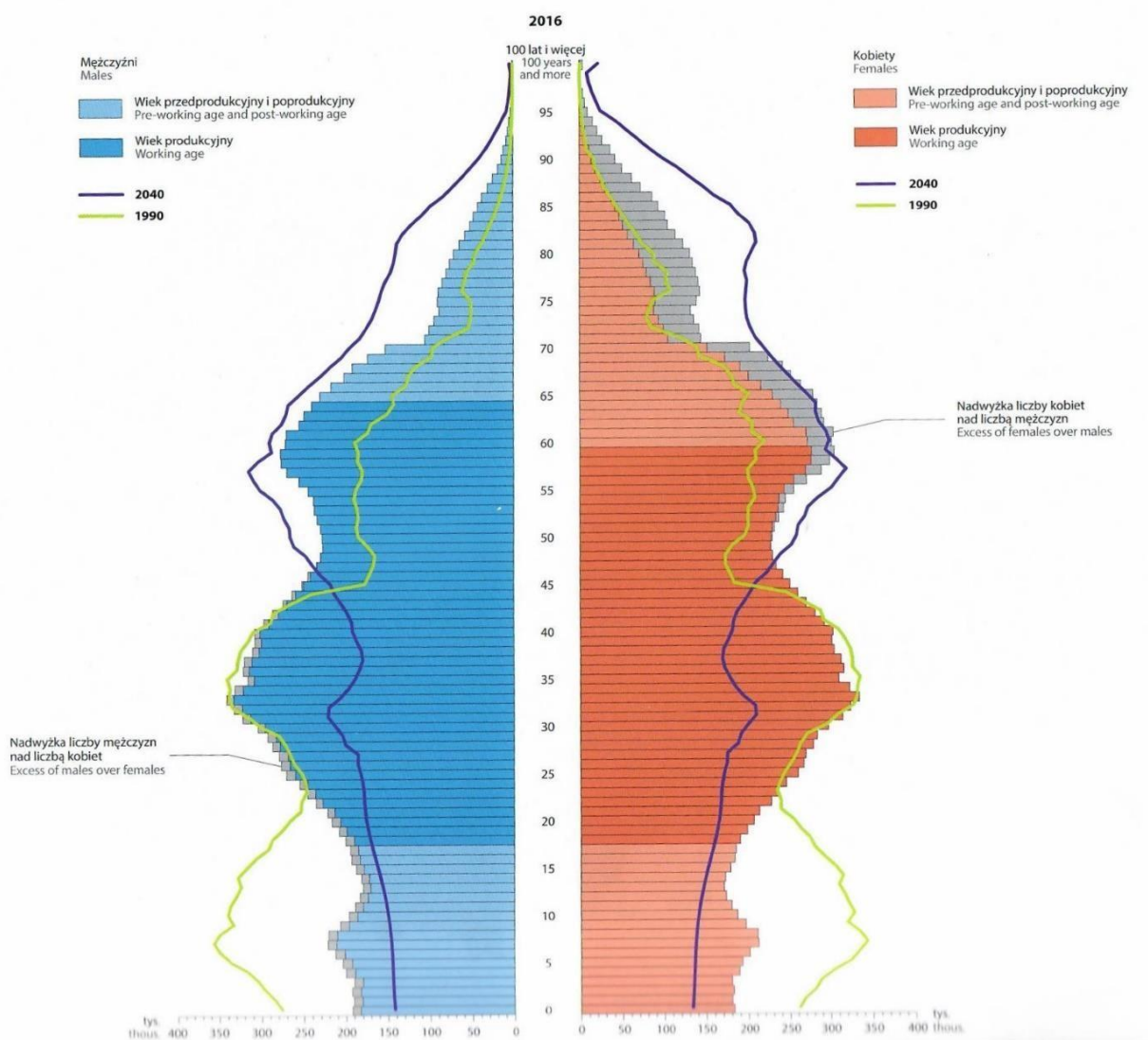
.....

### Zadanie 6. [0-1]

Czy w modelu rodziny partnerskiej kobieta i mężczyzna muszą pracować zawodowo? Uzasadnij swoją odpowiedź.

.....

### Materiały źródłowe do zadań 7, 8 i 9.



**Zadanie 7. [0-2]**

Na podstawie danych z wykresu wskaż 3 tendencje w strukturze ludności Polski w okresie 1990-2040.

.....  
.....  
.....

**Zadanie 8. [0-1]**

Uwzględniając dane źródłowe nazwij typ społeczeństwa , z jakim będziemy mieli do czynienia ok. 2040 r.

.....

**Zadanie 9. [0-1]**

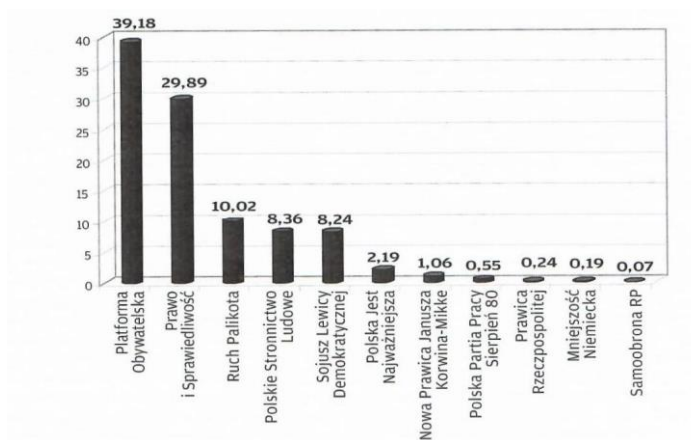
Uzupełnij luki w tekście.

W społeczeństwie, w którym więcej ludzi umiera niż rodzi się mamy do czynienia z ..... przyrostem naturalnym.

Stosunek liczby urodzeń żywych w danym okresie ( np. roku) do średniej liczby ludności z tego okresu wyrażony w promilach ( na 1000 ludności) to .....

.....to dziedzina nauki zajmująca się powstawaniem, życiem i przemijaniem społeczności ludzkiej oraz opisem tych procesów.

**Materiały źródłowe do zadań 10, 11 i 12.**



/ źr. [www.pkw.pl/](http://www.pkw.pl/)

**Zadanie 10. [0-2]**

W wyborach do Sejmu w 2011 r. przedstawiciele Mniejszości Niemieckiej zdobyli 1 mandat, a przedstawiciele Nowej Prawicy nie zdobyli mandatu. Wyjaśnij przyczyny tej sytuacji.

.....

**Zadanie 11. [0-1]**

Określ typ okręgów wyborczych do Sejmu RP i podaj rodzaj ordynacji wyborczej obowiązującej w tych wyborach.

.....

**Zadanie 12. [0-2]**

Czy wszystkie partie polityczne, które zarejestrują listy wyborcze otrzymują automatycznie subwencję z budżetu państwa? Uzasadnij odpowiedź.

.....

**Materiały źródłowe do zadania 13, 14 i 15.**

metoda I	B	C	D	E	F	G	
A							
1	728	602	962	826	802	226	188
2	364	301	481	413	401	113	94
3	243	201	321	275	267	75	63
4	182	151	241	207	201	57	47
5	146	120	192	165	160	45	38
6	121	100	160	138	134	38	31
7	104	86	137	118	115	32	27
8	91	75	120	88	100	28	24
9	81	67	107	92	89	25	21
10	73	60	96	83	80	27	19

metoda II	B	C	D	E	F	G	
A							
1	728	602	962	826	802	226	188
3	243	201	321	275	267	75	63
5	146	120	192	165	160	45	38
7	104	86	137	118	115	32	27
9	81	67	107	92	89	25	21

**Zadanie 13. [0-1]**

Młodzież z miasta X opracowuje projekt regulaminu Młodzieżowej Rady Miasta. W związku z tym zastanawia się nad wyborem którejś z metod przeliczeniowych tak, aby liczba radnych w Młodzieżowej Radzie Miasta była jak najbardziej reprezentatywna dla ogółu uczniów szkół ponadpodstawowych w mieście X. Uczniowie mają do podziału 10 mandatów, a uprawnionymi do głosowania są uczniowie w szkołach.

Rozstrzygnij, która z metod przeliczeniowych będzie najkorzystniejsza z punktu widzenia reprezentatywności uczniów i uzasadnij swój wybór.

.....  
.....

**Zadanie 14. [0-1]**

Nazwij metody przeliczeniowe zastosowane przy obliczaniu mandatów.

.....

**Zadanie 15. [0-2]**

Wskaż które partie uzyskały mandaty wg każdej z zastosowanych metod. Sformułuj na tej podstawie po 1 wniosek odnośnie każdej metody.

Metoda I:

A - .....

B - .....

C - .....

D - .....

E - .....

F - .....

G - .....

Metoda II:

A - .....

B - .....

C - .....

D - .....

E - .....

F - .....

G - .....

**Materiał źródłowy do zadania 16.**



**Zadanie 16. [0-2]**

Uzupełnij tabelę wpisując brakujące dane. Wykorzystaj mapę.

Numer na mapie	Nazwa państwa	Forma rządów	System rządów	Członkostwo w UE – tak/nie
1				
2				
3				
4				

**Materiał źródłowy do zadania 17.**

„W państwie demokratycznym, zgodnie z zasadą podziału władz, parlament jest organem w jednym z



trzech pionów państwowych i nie zajmuje pozycji uprzywilejowanej. W państwach o systemie parlamentarno-komitetowym parlament jest najwyższym organem władzy. W państwach realnego socjalizmu, w których formalnie system ten nie obowiązywał, w praktyce parlament był bardziej lub mniej powolnym narzędzie w rękach partii komunistycznej. W krajach rozwijających się sytuacja jest zróżnicowana. Przeważa jednak model ograniczonej roli parlamentu.”

/ źr. Społeczeństwo i polityka. Op.cit., s. 295./

**Zadania 17. [0-2]**

Uzupełnij tabelę wpisując nazwy państw, w których działają parlamenty lub ich izby o podanej nazwie.

Nazwa parlamentu	Państwo
Kongres	
Bundestag	
Duma Państwowa	
Kneset	
Izba Gmin	

**Materiał źródłowy do zadań 18 i 19.**

„Art. 123.

1. Rada Ministrów może uznać uchwalony przez siebie projekt ustawy za pilny, z wyjątkiem projektów ustaw podatkowych, ustaw dotyczących wyborów Prezydenta Rzeczypospolitej, Sejmu, Senatu oraz organów samorządu terytorialnego, ustaw regulujących ustrój i właściwość władz publicznych, a także kodeksów.
2. Regulamin Sejmu oraz regulamin Senatu określają odrębności w postępowaniu ustawodawczym, w sprawie projektu pilnego.”

/ źr. Konstytucja Rzeczypospolitej Polskiej z 1997 r./

**Zadanie 18. [0-2]**

Uzupełnij zdania wpisując informacje w wykropkowane miejsca.

W Rzeczypospolitej Polskiej podmiotami posiadającymi prawo do zgłoszenia inicjatywy ustawodawczej są (1) .....

Większość sejmowa niezbędna do uchwalenia ustawy to większość (2) .....

Senat RP ma (3) ..... dni na rozpatrzenie ustawy uchwalonej przez Sejm.

Prezydent RP ma (4) ..... dni na podpisanie ustawy .

Ustawa podpisana przez Prezydenta RP jest publikowana w (5) .....

**Zadanie 19. [0-1]**

Wskaż kroki, jakie Prezydent Rzeczypospolitej Polskiej może podjąć, jeśli nie podpisze ustawy w terminie.

.....

## **Materiały źródłowe do zadań 20, 21, 22.**

### **Materiał źródłowy nr 1.**

„ Ustawa z dnia 15 września 2000 r. o referendum lokalnym

Art. 55

- 1. Referendum jest ważne, jeżeli wzięło w nim udział co najmniej 30 % uprawnionych do głosowania, z zastrzeżeniem ust.2.*
- 2. Referendum w sprawie odwołania organu jednostki samorządu terytorialnego pochodzącego z wyborów bezpośrednich jest ważne w przypadku, gdy udział w nim wzięło nie mniej niż 3/5 liczby biorących udział w wyborze odwoływanego organu.”*

Art. 56

- 1. Wynik referendum jest rozstrzygający, jeżeli za jednym z rozwiązań w sprawie poddanej pod referendum oddano więcej niż połowę ważnych głosów.”*

### **Materiał źródłowy nr 2.**

Wyciąg z Protokołu ustalenia wyniku referendum gminnego w sprawie odwołania wójta gminy Wielowieś przed upływem kadencji zarządzonego na 20 września 2020 r.

Liczba osób uprawnionych do głosowania: 4752

Liczba osób głosujących: 230 Frekwencja: 4,84%

Liczba osób, które wzięły udział w wyborze

odwoływanego organu: 2092

Liczba ważnych głosów za odwołaniem organu: 204

/ [https://katowice.kbw.gov.pl/uploaded\\_files/1600657049\\_1600641603protokol-gkw.pdf/](https://katowice.kbw.gov.pl/uploaded_files/1600657049_1600641603protokol-gkw.pdf/)

/ *źr. Ustawa z dnia 15 września 2000 r. o referendum lokalnym ( Dz.U. z 2019 r. poz. 741)/*

### Zadanie 20. [0-1]

1. Ustal minimalną liczbę osób niezbędną do odwołania wójta gminy Wielowieś.

.....

### Zadanie 21. [0-2]

Rozstrzygnij czy w wyniku przeprowadzonego głosowania wójt stracił stanowisko. Uzasadnij odpowiedź.

.....

### Zadanie 22. [0-1]

Podaj nazwę organu stanowiącego w gminie Wielowieś.

.....

### Materiały do zadań 23, 24, 25.

#### Materiał nr 1.



Rodzice Julki i Antka, tata Adam oraz mama Jola otrzymali zawiadomienia o czekającej na nich korespondencji z Urzędu Miasta. Obydwoje odebrali listy. Sąsiad Andrzej również otrzymał zawiadomienie, jednak nie lubi dostawać korespondencji urzędowej, więc nie odebrał listu. Uznał, że skoro nie odebrał listu, to urząd potraktuje tę sytuację tak, jakby korespondencja nie dotarła do adresata. Czy słusznie?

Źr. N. Radosh, M. Łakomecki, *Przychodzi uczeń do prawnika...*, część dla młodzieży ponadgimnazjalnej, Ministerstwo Sprawiedliwości, Poznań 2015, s. 62.

## **Materiał nr 2.**

Pani Karolina pracuje do późna i nie była w stanie odebrać korespondencji z sądu. Listonosz zostawił wezwanie jej sąsiadce – pani Halince, która obiecała jej doręczyć pismo. Nie miał jednak długopisu i nie zostawił kartki z informacją o pozostawieniu wezwania u p. Halinki, zaś ona zapomniała oddać pismo p. Karolinie. Sąd nałożył na panią Karolinę karę za niestawiennictwo na rozprawie, jednak ta odwołała się od postanowienia sądu tłumacząc, że nie wiedziała o wezwaniu.

## **Materiał nr 3.**

Pani Martyna mieszka w Sopocie i chętnie spędza wolny czas po pracy na plaży. Znalazł ją tam listonosz i wręczył jej wezwanie do Urzędu Skarbowego tłumacząc, że nigdzie nie mógł jej spotkać. Pani Martyna nie przyjęła wezwania, tłumacząc, że listonosz nie ma prawa doręczać przesyłek w miejscu publicznym jakim jest plaża.

## **Materiał nr 4.**

„ Art. 42.

§ 1. Pisma doręcza się osobom fizycznym w ich mieszkaniu lub miejscu pracy albo na adres do korespondencji wskazany w bazie adresów elektronicznych.

§ 2. Pisma mogą być doręczane również w lokalu administracji publicznej, jeżeli przepisy szczególne nie stanowią inaczej.

§ 3. W razie niemożności doręczenia pisma w sposób określony w § 1 i 2, a także w razie koniecznej potrzeby, pisma doręcza się w każdym miejscu, gdzie się adresata zastanie.

Art. § 43.

W przypadku nieobecności adresata pismo doręcza się, za pokwitowaniem, dorosłemu domownikowi, sąsiadowi lub dozorczy domu, jeżeli osoby te podjęły się oddania pisma adresatowi. O doręczeniu pisma sąsiadowi lub dozorczy zawiadamia się adresata, umieszczając zawiadomienie w oddawczej skrzynce pocztowej lub, gdy nie jest to możliwe, w drzwiach mieszkania.

Art. 44.

§ 1. W razie niemożności doręczenia pisma w sposób wskazany w art. 42 i 43:

- 1) Operator pocztowy w rozumieniu ustawy z dnia 23 listopada 2012r. – Prawo pocztowe przechowuje pismo przez okres 14 dni w swojej placówce pocztowej – w przypadku doręczenia pisma przez operatora pocztowego;
- 2) Pismo składa się na okres czternastu dni w urzędzie właściwej gminy (miasta) – w przypadku doręczenia pisma przez pracownika urzędu gminy (miasta) lub upoważnioną osobę lub organ.

§ 2. Zawiadomienie o pozostawieniu pisma wraz z informacją o możliwości jego odbioru w terminie 7 dni, licząc od dnia pozostawienia zawiadomienia w miejscu określonym w § 1, umieszcza się w oddawczej skrzynce pocztowej lub, gdy jest to możliwe, na drzwiach mieszkania adresata, jego biura lub innego pomieszczenia, w którym adresat wykonuje swoje czynności zawodowe, bądź w widocznym miejscu przy wejściu na posesję adresata.

§ 3. W przypadku niepodjęcia przesyłki w terminie, o którym mowa w § 2, pozostawia się powtórne zawiadomienie o możliwości odbioru przesyłki w terminie nie dłuższym niż czternaście dni od daty pierwszego zawiadomienia.

§ 4. Doręczenie uważa się za dokonane z upływem ostatniego dnia okresu, o którym mowa w § 1, a pismo pozostawia się w aktach sprawy.”

*/źr. Ustawa z dnia 14 czerwca 1960 r. Kodeks postępowania administracyjnego ( Dz.U. z 2022 r. poz. 2000 z późn. zm.).*

### **Zadanie 23. [0-2]**

Rozstrzygnij odwołując się do właściwej podstawy prawnej czy sąsiad Andrzej z materiału nr 1 słusznie uważa, że jeśli nie odbierze korespondencji z urzędu, zostanie to potraktowane tak, jakby korespondencja nie dotarła do niego?

.....

### **Zadanie 24. [0-2]**

Odwołując się do właściwej podstawy prawnej rozstrzygnij czy można uznać, że przesyłka została doręczona skutecznie do p. Karoliny?

.....

### **Zadanie 25. [0-2]**

Czy p. Martyna postąpiła zgodnie z prawem odmawiając przyjęcia przesyłki na plaży? Uzasadnij swoje rozstrzygnięcie odwołując się do właściwych przepisów.

.....

### **Materiał źródłowy do zadania 26, 27, 28 i 29.**

„Wyrokiem z dnia 18 września 2017 r. Sąd Rejonowy dla (...) orzekł co następuje:

(...) W ramach zarzucanego czynu, oskarżonego G.F. uznał za winnego tego, że w dniu 29 maja 2017 r. około godziny 19.40 w W., przy ul. (...) na terenie sklepu należącego do M.G., stosując groźbę natychmiastowego użycia przemocy wobec zatrudnionej w sklepie R.B. w ten sposób, że wycelował w jej stronę posiadaną replikę broni palnej (...), co zostało odebrane przez R.B. jako groźba oddania strzału z tejże broni w jej kierunku w razie niespełnienia żądania oskarżonego, a następnie usiłował dokonać kradzieży nie określonej kwoty pieniędzy w gotówce, żądając od R.B. wydania pieniędzy z kasy sklepowej, do czego jednak nie doszło wobec postawy R.B., po czym ostatecznie dokonał kradzieży czterech paczek papierosów marki C. oraz czterech batonów czekoladowych o łącznej wartości 70 zł na szkodę M.G. i za to oskarżonego G.F. skazał (...) na karę 2 (dwóch) lat i 3 (trzech) miesięcy pozbawienia wolności.”

**Zadanie 26. [0-1]**

Podaj nazwę aktu prawnego, którego przepisy zostały złamane przez sprawcę w powyższym materiale źródłowym.

.....

**Zadanie 27. [0-1]**

Podaj nazwę wydziału w Sądzie Rejonowym, w którym toczyło się opisane wyżej postępowanie.

.....

**Zadanie 28. [0-1]**

Podaj nazwę środka odwoławczego, jaki przysługuje G.F. od wyroku, jaki zapadł w sprawie przeciwko niemu.

.....

**Zadanie 29. [0-1]**

Podaj nazwę sądu właściwego do rozpatrzenia środka odwoławczego od wyroku Sądu Rejonowego.

.....

**Materiały źródłowe do zadań 30,31, 32 i 33.**

**Materiał źródłowy nr 1.**

„Austria

*Nie ma szczególnego zagrożenia przestępczością, zdarzają się jednak kradzieże pieniędzy i dokumentów (zwłaszcza w większych miastach). Władze miejscowe nie wprowadziły stopnia zagrożenia terrorystycznego.*

*(...) Ograniczenia swobodnego przemieszczania się i pobytu mogą mieć miejsce jedynie w przypadkach zagrażających polityce bezpieczeństwa państwa i zdrowiu publicznemu. Zakaz wjazdu do Austrii pozostaje aktualny w stosunku do osób, które wydalono na mocy decyzji sądu.”*

/ źr. <https://www.gov.pl/web/dyplomacja/austria> [dostęp: 31.12.2019]/

**Materiał źródłowy nr 2.**

„Bośnia i Hercegowina

*W Bośni i Hercegowinie nie wprowadzono stopnia zagrożenia terrorystycznego. W wielu miejscach, szczególnie mniej popularnych turystycznie, pozostało wiele nierozbrojonych min i niewypałów.*

*Miejsca te najczęściej są oznakowane, ale nie zaleca się samodzielnego podróżowania po lasach, górach, drogach nieutwardzonych, nieoznakowanych lub rzadko używanych. Pieszo wskazane jest poruszanie się po wyznaczonych szlakach, z miejscowym przewodnikiem, zaś w ruchu kołowym po oznakowanych i utwardzonych drogach. Ze względu na częste kradzieże dokumentów osobistych, dokumentów samochodowych czy pieniędzy i kart płatniczych zaleca się noszenie ich oddzielnie.*

*Warto mieć przy sobie kopię ksero ważniejszych dokumentów (prawa jazdy, dowodu rejestracyjnego auta i ubezpieczenia, dowodu tożsamości).*

*(...)*

*Obywatele RP zwolnieni są z obowiązku wizowego w przypadku pobytu nieprzekraczającego 90 dni. Istnieje formalny wymóg okazania na granicy środków finansowych w wysokości 75 EUR na każdy*

*dzień pobytu, warto mieć więc kartę płatniczą lub kredytową. Obywatele UE mogą przekraczać granicę bośniacką także na podstawie dowodów osobistych. Turyści legitymujący się w Bośni i Hercegowinie tylko dowodem osobistym mogą spotkać się jednak z innymi problemami lub utrudnieniami, np. przy korzystaniu z bezpłatnej opieki medycznej w nagłych przypadkach, z usług niektórych banków, poczt czy Western Union.”*

*/ źr. <https://www.gov.pl/web/dyplomacja/bosnia-i-hercegowina> [dostęp: 31.12.2019 r.]*

„Gruzja Ministerstwo Spraw Zagranicznych odradza wszelkie próby wjazdu do Gruzji z terytorium Federacji Rosyjskiej przez tereny separatystycznej Abchazji i Regionu Chhinwali (Osetia Południowa). Zgodnie z gruzińskim prawem wjazd do kraju z ww terytoriów jest nielegalny i podlega karze pozbawienia wolności lub grzywny. Jednocześnie, ze względu na brak gwarancji bezpieczeństwa, stanowczo odradzamy przekraczanie linii administracyjnych powyższych separatystycznych terytoriów z obszarów kontrolowanych przez władze gruzińskie. W Gruzji obowiązuje drugi ( w 4-stopniowej skali) stopień zagrożenia terrorystycznego. Oznacza to, że prawdopodobieństwo zamachu terrorystycznego jest, zdaniem władz miejscowych, umiarkowane. (...) Złe warunki gospodarcze i wysokie bezrobocie wpływają na wzrost przestępczości pospolitej, która jest jednak nadal niższa niż w wielu krajach zachodnich.”

/ źr. <https://www.gov.pl/web/dyplomacja/gruzja> [dostęp: 31.12.2019]/

#### **Materiał źródłowy nr 4.**

„Gambia

Ministerstwo Spraw Zagranicznych zaleca zachowanie szczególnej ostrożności podczas podróży do Gambii z uwagi na dokonujące się przemiany po kryzysie politycznym i interwencji zbrojnej, która miała miejsce w 2017r. Nie można wykluczyć zamachów terrorystycznych na terytorium Gambii. Pozostałe zalecenia dotyczące zachowania środków bezpieczeństwa nie odbiegają od standardów obowiązujących w sąsiednich krajach: należy unikać podróżowania po zmroku, omijać dzielnice biedoty, chronić gotówkę i dokumenty przed kradzieżą kieszonkową itp. (...) W związku z brakiem polskiej placówki, możliwość udzielenia bezpośredniej pomocy konsularnej obywatelom polskim może być ograniczona”.

/ źr. <https://www.gov.pl/web/dyplomacja/gambia> [dostęp: 31.12.2019 r.]

#### **Materiał źródłowy nr 5.**

„Włochy

We Włoszech obowiązuje czwarty ( w 5-stopniowej skali) stopień zagrożenia terrorystycznego. Oznacza to, że przeprowadzenie zamachu terrorystycznego jest, zdaniem władz miejscowych wysoce prawdopodobne. Alert terrorystyczny wiązać się może z zaostrzonymi środkami bezpieczeństwa, takimi jak wzmożone kontrole, obecność na ulicach żołnierzy uzbrojonych w broń automatyczną, prześwietlanie bagażu i przechodzenie przez bramki bezpieczeństwa przy wejściu do ważniejszych atrakcji turystycznych. (...) Turyści narażeni są we Włoszech przede wszystkim na kradzieże (dokumenty, pieniądze) oraz włamania i kradzieże samochodów. Bardzo częste są kradzieże kieszonkowe. Wzmogoną ostrożność należy zachować w środkach transportu publicznego, szczególnie w trakcie wsiadania i wysiadania.”

/ źr. <https://www.gov.pl/web/dyplomacja/wlochy> [dostęp: 31.12.2019 r.]

#### **Materiał źródłowy nr 3.**

#### **Zadanie 30. [0-1]**

Do którego kraju (krajów) można wjechać posiadając jedynie dowód tożsamości w związku z obecnością tego kraju w strefie Schengen?

.....



**Zadanie 31. [0-1]**

Pani Joanna wybiera się z rodziną na wakacje, dysponując nie ograniczonym budżetem. Które z powyżej opisanych państw powinna wybrać, aby być jak najbardziej bezpieczna? Uzasadnij swój wybór.

.....

**Zadanie 32. [0-1]**

Pan Marek wybiera się na południe Europy i zastanawia się w którym kraju będzie najbardziej bezpieczny. Wskaż ten kraj spośród opisanych powyżej i uzasadnij swój wybór.

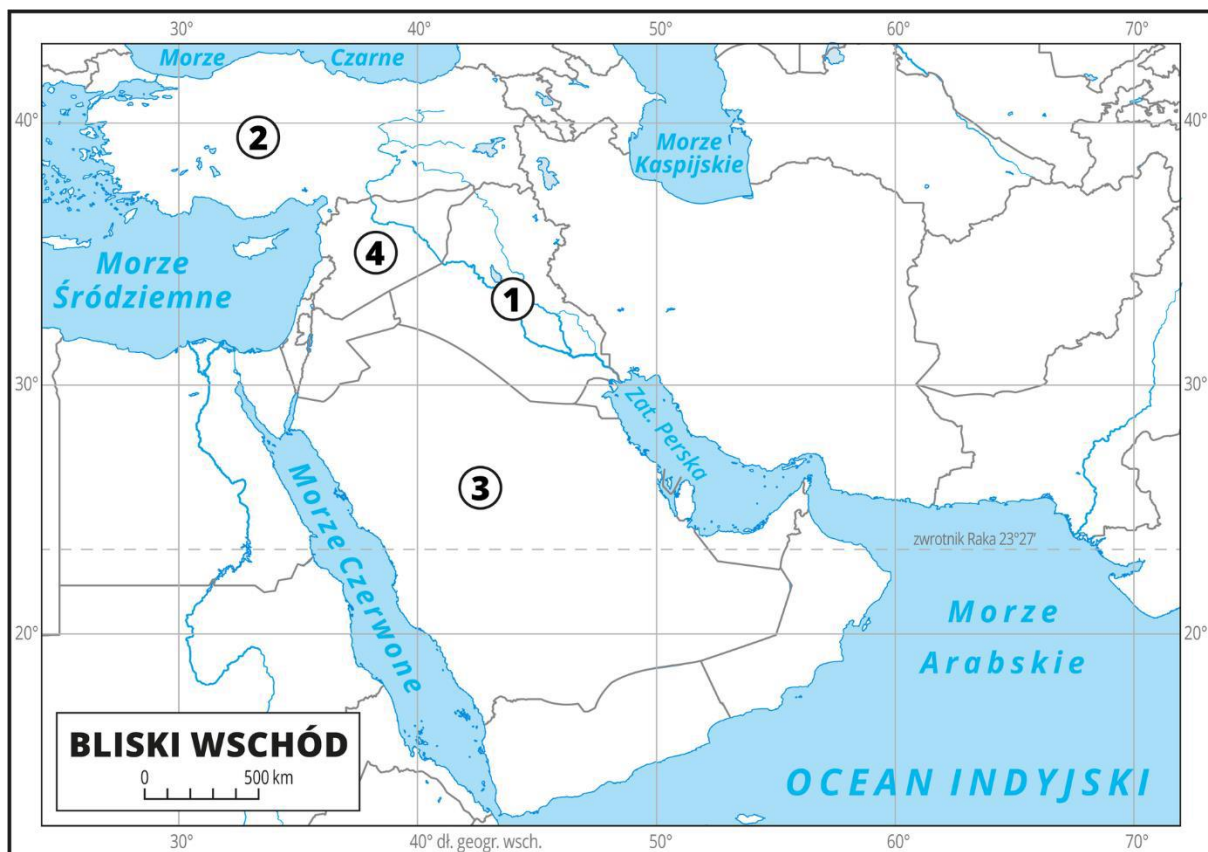
.....

**Zadanie 33. [0-1]**

Kto zapewnia opiekę i pomoc konsularną w przypadku podkreślonym w powyższych materiałach źródłowych?

.....

**Materiał do zadania 34 i 35.**



**Zadanie 34. [0-2]**

Spośród państw oznaczonych cyframi na mapie wybierz te, na terytorium których zamieszkują Kurdowie, a następnie rozpoznaj je i dopisz właściwy numer z mapy.

.....

**Zadanie 35. [0-1]**

Wśród krajów zaznaczonych cyframi na mapie wskaż te, które są członkami NATO – podaj ich nazwę oraz numer, jakim zostały oznaczone.

.....

**Zadanie 36. [0-5]**

Pani Joanna Nowak zawarła z panem Mirosławem Ząbkim umowę najmu mieszkania w Krakowie na czas określony i ustaliła wysokość czynszu na kwotę 1500 złotych miesięcznie. Pomimo tego, że umowa wygasła w dniu 31 grudnia 2021 r. pan Mirosław nadal mieszkał w mieszkaniu pani Joanny do końca października 2022 r.. W tym czasie nie uiszczał z tytułu najmu żadnych opłat. Mimo wezwań pani Joanny do zapłaty zaległego czynszu, pan Mirosław nadal nie uiścił żądanej kwoty.

Napisz pozew o zapłatę w związku z sytuacją opisaną wyżej.

.....  
.....  
.....  
.....  
.....  
.....  
.....  
.....  
.....  
.....  
.....

**Zadanie 37. [0-7]**

Scharakteryzuj 4 wybrane formy demokracji partycypacyjnej i rozstrzygnij czy zgadzasz się z twierdzeniem, że demokracja partycypacyjna jest daleko od ideału demokratycznego sposobu sprawowania władzy? Sformułuj argumenty na poparcie swojego stanowiska oraz kontrargumenty.

.....  
.....  
.....  
.....  
.....  
.....  
.....  
.....

